

סוג הבחינה: א. בגרות לבתי ספר על-יסודיים
ב. בגרות לנבחנים אקסטרניים
מועד הבחינה: חורף תשע"ג, 2013
מספר השאלון: 317,035807
נספח: דפי נוסחאות ל-5 יחידות לימוד

מתמטיקה

5 יחידות לימוד – שאלון שני

הוראות לנבחן

- א. משך הבחינה: שעותיים.
- ב. מבנה השאלון ומפתח ההערכה: בשאלון זה שני פרקים.
פרק ראשון – גאומטריה אנליטית, וקטורים, טריגונומטריה במרחב, מספרים מרוכבים
פרק שני – גדילה ודעיכה, פונקציות חזקה, פונקציות מעריכיות ולוגריתמיות
- ג. חומר עזר מותר בשימוש:
(1) מחשבון לא גרפי. אין להשתמש באפשרויות התכנות במחשבון הניתן לתכנות. שימוש במחשבון גרפי או באפשרויות התכנות במחשבון עלול לגרום לפסילת הבחינה.
(2) דפי נוסחאות (מצורפים).
חומר עזר מותר בשימוש:
סה"כ – 100 נקודות
- ד. הוראות מיוחדות:
(1) אל תעתיק את השאלה; סמן את מספרה בלבד.
(2) התחל כל שאלה בעמוד חדש. רשום במחברת את שלבי הפתרון, גם כאשר החישובים מתבצעים בעזרת מחשבון.
הסבר את כל פעולותיך, כולל חישובים, בפירוט ובצורה ברורה ומסודרת. חוסר פירוט עלול לגרום לפגיעה בציון או לפסילת הבחינה.
(3) לטייטה יש להשתמש במחברת הבחינה או בדפים שקיבלת מהמשגיחים. שימוש בטייטה אחרת עלול לגרום לפסילת הבחינה.
- ההנחיות בשאלון זה מנוסחות בלשון זכר ומכוונות לנבחנות ולנבחנים כאחד.

ב ה צ ל ח ה !

המשך מעבר לדף ◀

השאלות

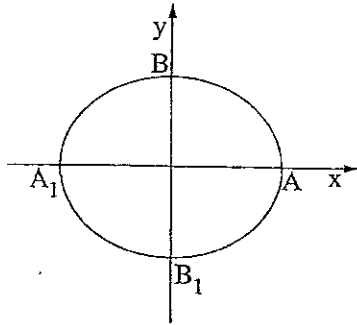
שים לב! הסבר את כל פעולותיך, כולל חישובים, בפירוט ובצורה ברורה.
 חוסר פירוט עלול לגרום לפגיעה בציון או לפסילת הבחינה.

פרק ראשון — גאומטריה אנליטית, וקטורים, טריגונומטריה במרחב,

מספרים מרוכבים ($\frac{2}{3}$ נקודות)

ענה על שתיים מבין השאלות 1-3 (לכל שאלה — $\frac{1}{3}$ נקודות).

שים לב! אם תענה על יותר משתי שאלות, ייבדקו רק שתי התשובות הראשונות שבמחברתך.



1. נתונה האליפסה $\frac{x^2}{a^2} + \frac{y^2}{b^2} = 1$, $a > b$ (ראה ציור).

F_1 ו- F_2 הם מוקדי האליפסה

וקדקודיה הם A, A_1, B, B_1 .

נתון כי המוקד F_1 הוא אמצע הקטע AF_2 .

דרך מרכז האליפסה ושניים מקדקודיה העבירו מעגל.

נתון כי קוטר המעגל הוא $\sqrt{17}$.

א. מצא את משוואת האליפסה.

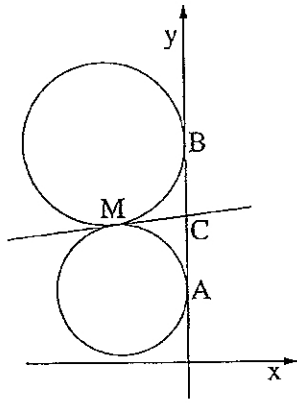
ב. העבירו עוד שלושה מעגלים אחרים דרך מרכז האליפסה ושניים מקדקודיה. המרכזים של

ארבעת המעגלים הם קדקודים של מרובע.

המרובע, הנמצא במישור $[x, y]$, הוא בסיס של פירמידה שקדקודה הוא $S(0, 3, 4)$.

מצא את נפח הפירמידה.

◀ המשך בעמוד 3



2. שני מעגלים שמרכזיהם נמצאים ברביע השני,

משיקים לציר ה- y בנקודות $A(0, 1)$ ו- $B(0, 3)$.

המעגלים משיקים זה לזה בנקודה M (ראה ציור).

א. המשיק המשותף לשני המעגלים חותך את ציר ה- y

בנקודה C .

הראה כי $MC = \frac{1}{2}AB$.

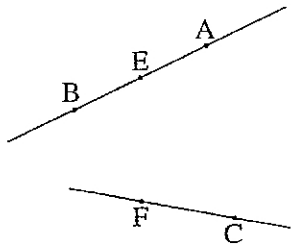
ב. (1) מצא את משוואת המקום הגאומטרי של

נקודות ההשקה M הנוצרות באופן שתואר.

(2) מהי הצורה של המקום הגאומטרי של הנקודות M , ובאיזה רביע/רביעים הוא נמצא?

ג. המדריך של הפרבולה $y^2 = 2px$ משיק למקום הגאומטרי שאת משוואתו מצאת בסעיף ב.

מצא את השיעורים של הנקודות על הפרבולה שמרחקן מהמוקד שלה הוא 10.



3. נתונים שני ישרים מצטלבים. קטע AB נמצא על

אחד הישרים, וקטע CF נמצא על הישר האחר.

נקודה E היא אמצע הקטע AB (ראה ציור).

נסמן: $\vec{EA} = \underline{w}$, $\vec{FE} = \underline{v}$, $\vec{CF} = \underline{u}$.

נתון: $\underline{v} \perp \underline{u}$, $\underline{v} \perp \underline{w}$.

$$|\underline{u}| = \sqrt{7}, \quad |\underline{v}| = \sqrt{13}, \quad |\underline{w}| = \sqrt{5}$$

קוסינוס הזווית בין הווקטורים \underline{w} ו- \underline{u} הוא $\frac{\sqrt{35}}{10}$.

א. מצא את גודל הזווית ABC .

נתון גם: $A(0, 2, 3)$, $B(2, 6, 3)$. מישור π עובר דרך הנקודה B ומאונך לישר AB .

ב. מצא את משוואת המישור π .

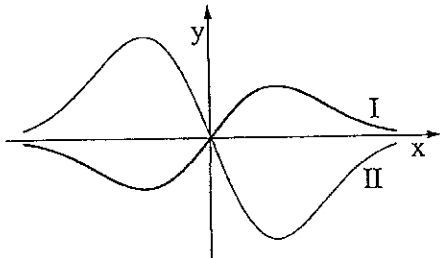
ג. היעור בתשובתך לסעיף א ומצא את גודל הזווית שבין הישר BC למישור π .

המשך בעמוד 4

פרק שני — גדילה ודעיכה, פונקציות חזקה, פונקציות מעריכיות ולוגריתמיות
($33\frac{1}{3}$ נקודות)

ענה על אחת מהשאלות 4-5.

שים לב! אם תענה על יותר משאלה אחת, תיבדק רק התשובה הראשונה שבמחברתך.



4. נתונות הפונקציות $f(x)$ ו- $g'(x)$.

הפונקציה $f(x)$ ופונקציית הנגזרת $g'(x)$

מקיימות: $g'(x) = -2f(x)$.

בציור שלפניך מוצגים הגרפים I ו-II

של הפונקציות $f(x)$ ו- $g'(x)$.

א. קבע איזה גרף הוא של הפונקציה $f(x)$,

ואיזה גרף הוא של פונקציית הנגזרת $g'(x)$. נמק.

ב. נתון גם: $g'(x) = -2xe^{-x^2}$, $g(0.5) = \frac{1}{e^{0.25}}$.

מצא עבור אילו ערכים של x הגרף של הפונקציה $f(x)$ נמצא מעל הגרף של הפונקציה $g(x)$.

ג. הישר l_1 עובר דרך נקודת המינימום של הפונקציה $f(x)$ ודרך נקודת המקסימום של

פונקציית הנגזרת $g'(x)$.

הישר l_2 עובר דרך נקודת המקסימום של הפונקציה $f(x)$ ודרך נקודת המינימום של

פונקציית הנגזרת $g'(x)$.

מצא את משוואת הישר l_1 , ואת משוואת הישר l_2 .

ד. השטח, המוגבל על ידי הישר l_1 , על ידי הגרף של הפונקציה $f(x)$ ועל ידי הגרף של

פונקציית הנגזרת $g'(x)$, הוא S_1 .

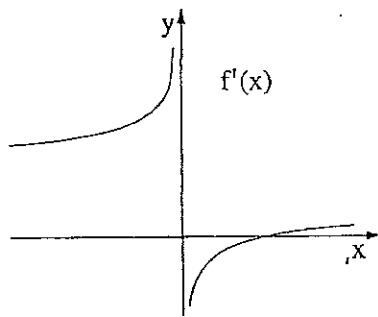
השטח, המוגבל על ידי הישר l_2 , על ידי הגרף של הפונקציה $f(x)$ ועל ידי הגרף של

פונקציית הנגזרת $g'(x)$, הוא S_2 .

מהו היחס $\frac{S_1}{S_2}$? נמק.

◀ המשך בעמוד 5

5. בציור שלפניך מוצג הגרף



$$f'(x) = \frac{2 \cdot \sqrt[3]{x} - 2}{\sqrt[3]{x}}$$

של פונקציית הנגזרת הפונקציה $f(x)$ מוגדרת לכל x .

א. היעזר בגרף של פונקציית הנגזרת $f'(x)$, ומצא:

(1) את תחומי העלייה והירידה

של הפונקציה $f(x)$. נמק.

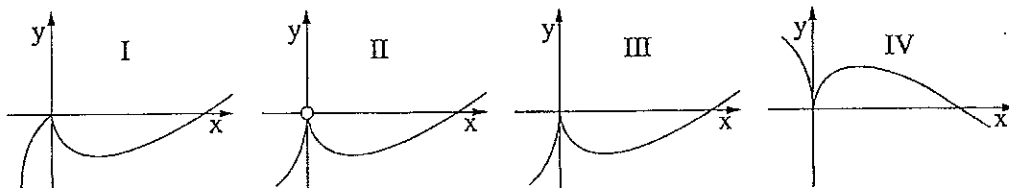
(2) את תחומי הקעירות כלפי מעלה U וכלפי מטה \cap של הפונקציה $f(x)$

(אם יש כאלה). נמק.

ב. נתון כי הישר $y = -1$ משיק לגרף הפונקציה $f(x)$ בנקודת המינימום שלה.

מצא את נקודות החיתוך של גרף הפונקציה $f(x)$ עם הצירים.

ג. לפניך ארבעה גרפים IV-I. איזה גרף עשוי לתאר את הפונקציה $f(x)$? נמק.



בהצלחה!

זכות היוצרים שמורה למדינת ישראל
אין להעתיק או לפרסם אלא ברשות משרד החינוך